




SAN FERNANDO
CENTRO EDUCACIONAL

Las Achiras N° 420- FON0: 28723428

Región: Metropolitana
Provincia: Cordillera
Comuna: Puente Alto
RBD: 24995 - 5

* **I.- IDENTIFICACION DE LA PRESENTACION:**

DEPARTAMENTO	HISTORIA
ASIGNATURA	HISTORIA, GEOGRAFIA Y CIENCIAS SOCIALES.
PROFESOR	SUSANA MENA PONCE
NIVEL	3° BÁSICO
SEMESTRE	PRIMERO

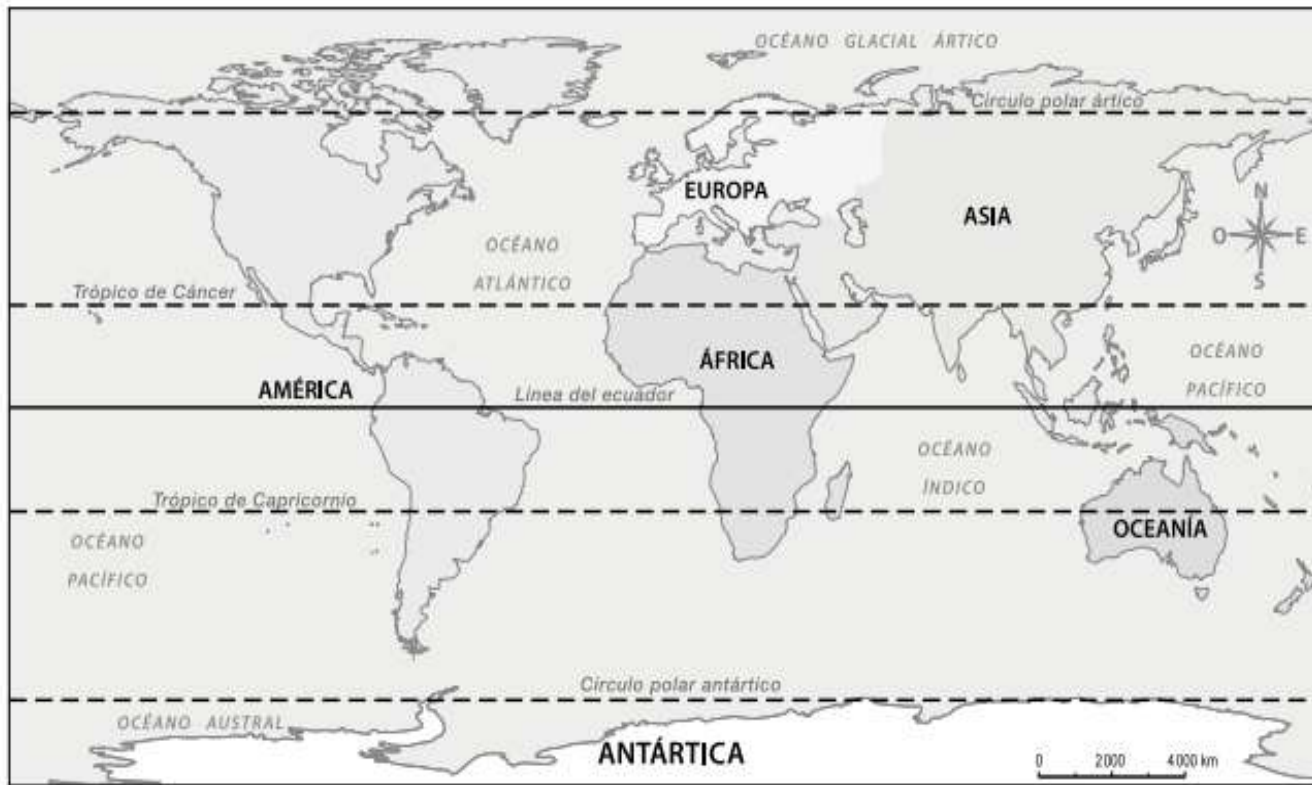


II.- GESTIÓN CURRICULAR:

Miércoles 11/05/2022

OBJETIVO	:Profundizar en la comprensión de líneas imaginarias.
CONTENIDO	: Líneas imaginarias.
ACTIVIDAD PRACTICA	<ul style="list-style-type: none">• TEXTO DEL ESTUDIANTE – CUADERNO DE ASIGNATURA
MATERIAL	<ul style="list-style-type: none">• CUADERNO – LAPICES

3 Remarca en el planisferio las líneas de referencias estudiadas utilizando distintos colores. Fíjate en las líneas punteadas. Recuerda trabajar de forma rigurosa y perseverante. (7 puntos).



Hemisferio:

Hemisferio:

Simbología



Línea del ecuador



Trópico de Capricornio



Círculo polar antártico



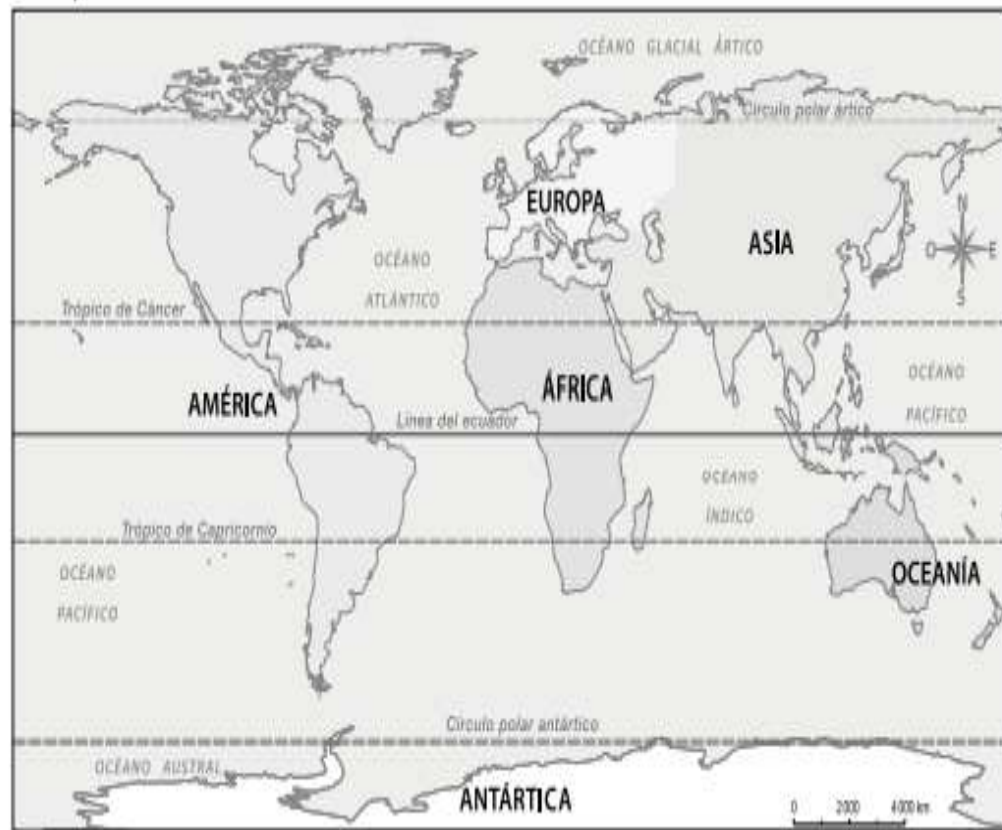
Trópico de Cáncer



Círculo polar ártico

Recurso 2 Planisferio

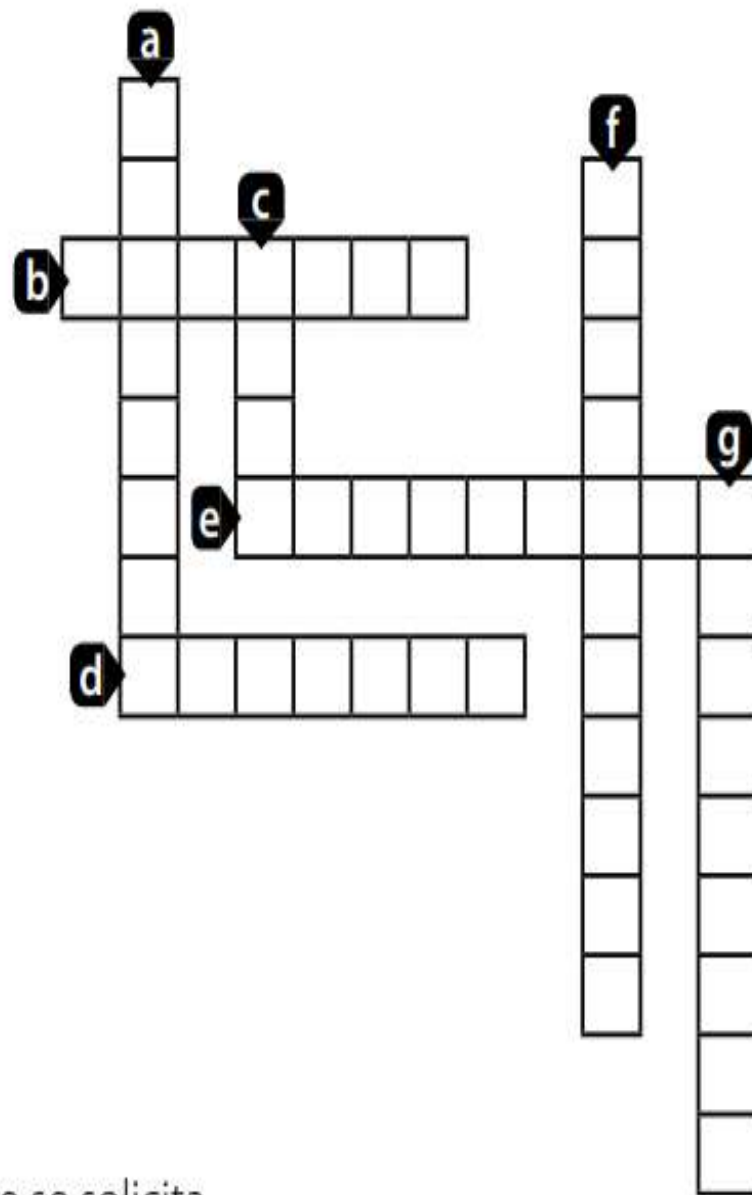
El siguiente planisferio muestra los océanos y continentes de la Tierra.



- a. ¡Hola! Mi nombre es Luciano y vivo en Chile, que está en el continente llamado _____. Este es el segundo continente más grande. Al oeste se encuentra el océano _____ y al este el océano _____. (6 puntos)
- b. ¡Bonjour! Mi nombre es Amelie y vivo en Francia, que está en Europa. Es un continente pequeño, respecto de los demás, pero tiene muchos países. Limita al oeste con el océano _____ y al norte con el océano _____. (4 puntos)

1 Siguiendo las indicaciones que se presentan, resuelve el siguiente crucigrama (7 puntos):

- a. Océano más extenso de la Tierra.
- b. Son grandes masas de agua que rodean a los continentes.
- c. Es el continente con mayor superficie de la Tierra.
- d. Continente con menor superficie de la Tierra.
- e. Es el continente con menor cantidad de habitantes.
- f. Extensas porciones de tierra. Existen seis.
- g. Océano que limita con América por el este.



2 Observa el planisferio y completa la información que se solicita.

* REVISION DE TRABAJO DIARIO

- RESPONDA LAS PREGUNTAS EN SU CUADERNO.
- SE REVISARAN LAS RESPUESTAS DE MODO ORAL EN LA SIGUIENTE CLASE.